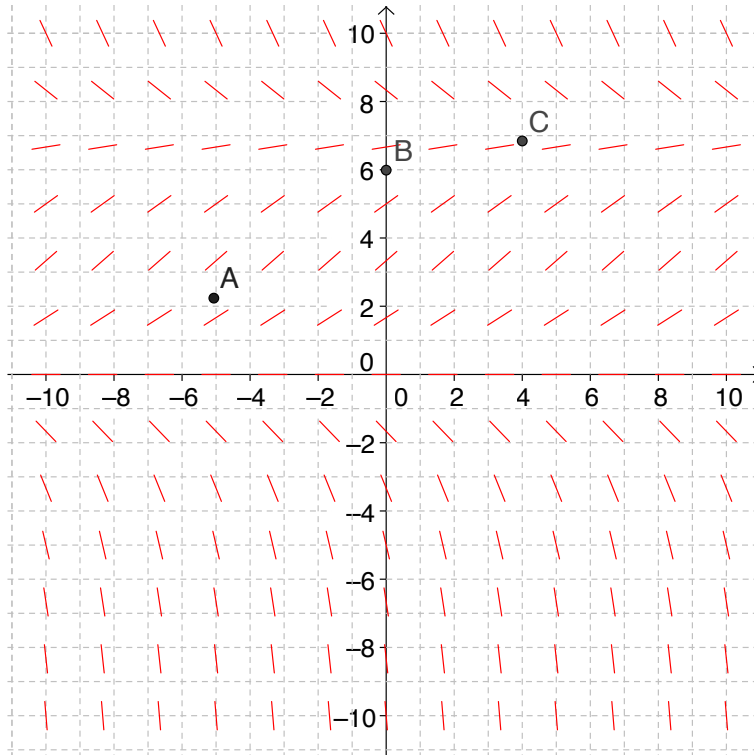


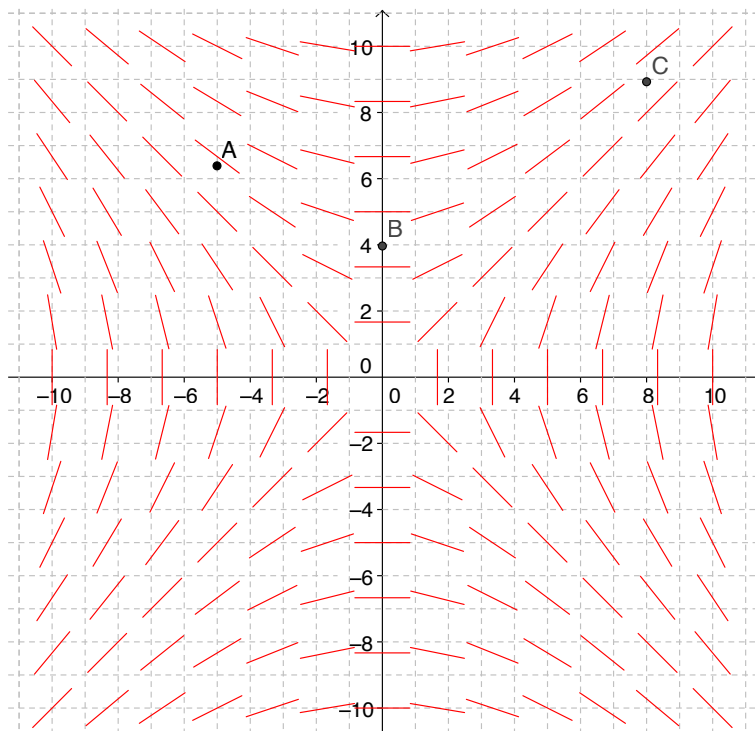
Opgave 1

I koordinatsystemet med linjeelementer skal du skitsere den løsningskurve, der går gennem punkterne A, B og C



Opgave 2

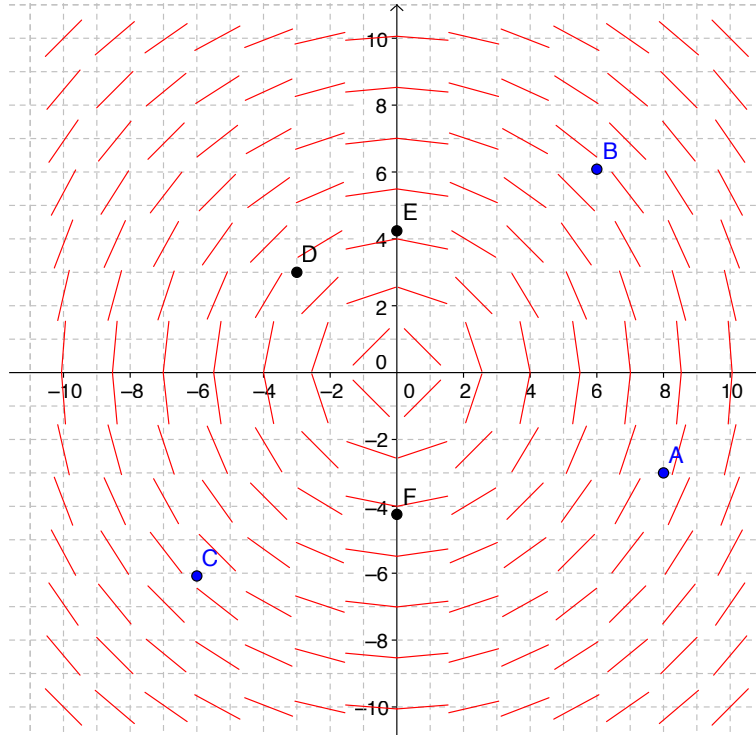
I koordinatsystemet med linjeelementer skal du skitsere den løsningskurve, der går gennem punkterne A, B og C



Opgave 3

I koordinatsystemet med linjeelementer skal du

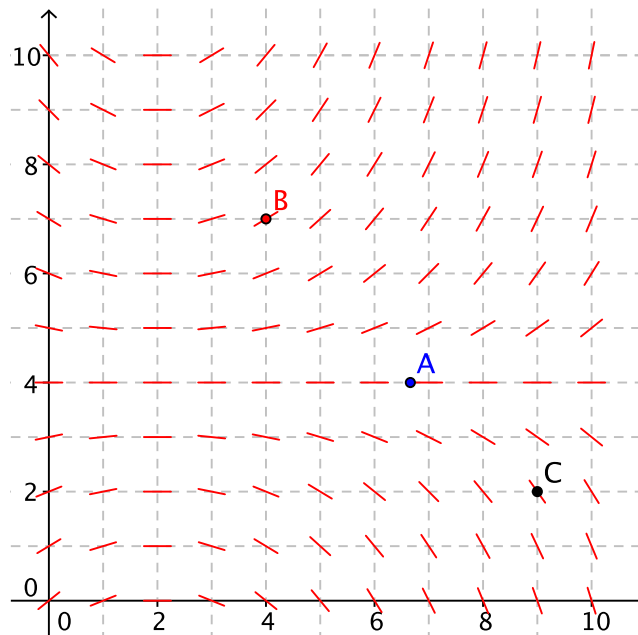
- skitsere den løsningskurve, der går gennem punkterne A, B og C
- skitsere den løsningskurve, der går gennem punkterne D, E og F



Opgave 4

I koordinatsystemet med linjeelementer skal du

- skitsere den løsningskurve, der går gennem punktet A
- skitsere den løsningskurve, der går gennem punktet B
- skitsere den løsningskurve, der går gennem punktet C



Opgave 5

I koordinatsystemet med linjeelementer skal du

- skitsere den løsningskurve, der går gennem punktet A
- skitsere den løsningskurve, der går gennem punktet B
- skitsere den løsningskurve, der går gennem punktet C
- skitsere den løsningskurve, der går gennem punktet D
- skitsere den løsningskurve, der går gennem punktet E

